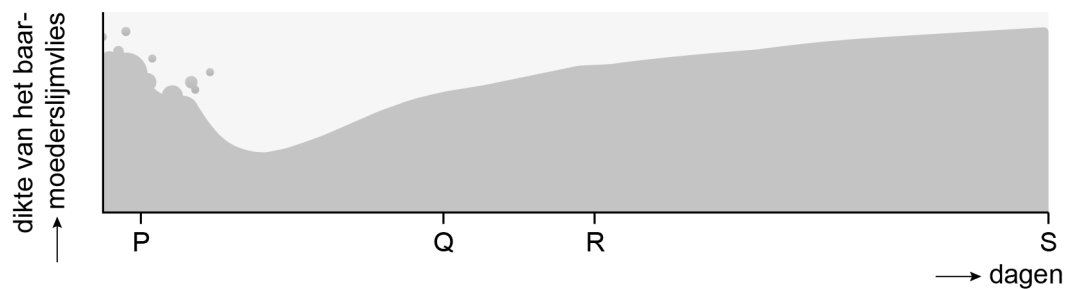
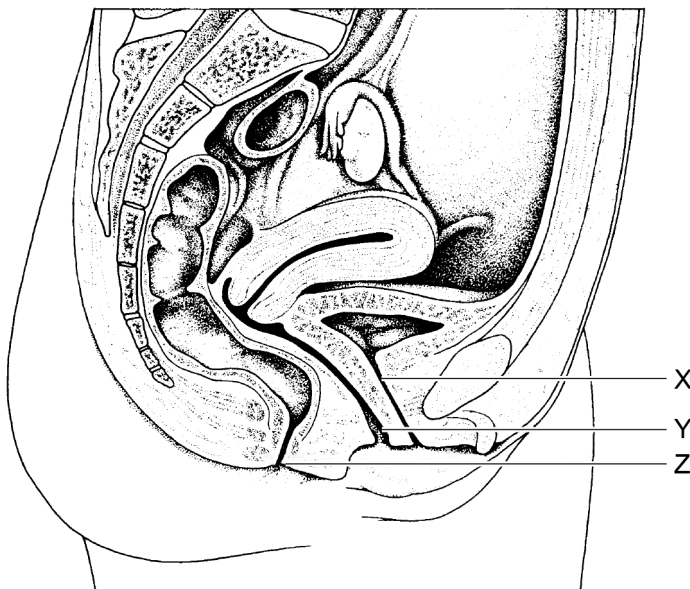


## In de baarmoeder

In de afbeelding zie je veranderingen van het baarmoederslijmvlies in een periode van 6 weken (42 dagen).



- 1p 19 Tijdens de menstruatie wordt het baarmoederslijmvlies afgebroken.  
→ Wat is de functie van het baarmoederslijmvlies?
- 1p 20 Kun je uit de afbeelding opmaken of er bevruchting heeft plaatsgevonden? Leg je antwoord uit.
- 1p 21 Op de **uitwerkbijlage** staan drie afbeeldingen van gebeurtenissen in het voortplantingsstelsel van de vrouw.  
→ Omcirkel de juiste letter uit de informatie bij elke afbeelding.
- 1p 22 Met welke letter is in de afbeelding het deel aangegeven waar tijdens de menstruatie het baarmoederslijmvlies het lichaam verlaat?



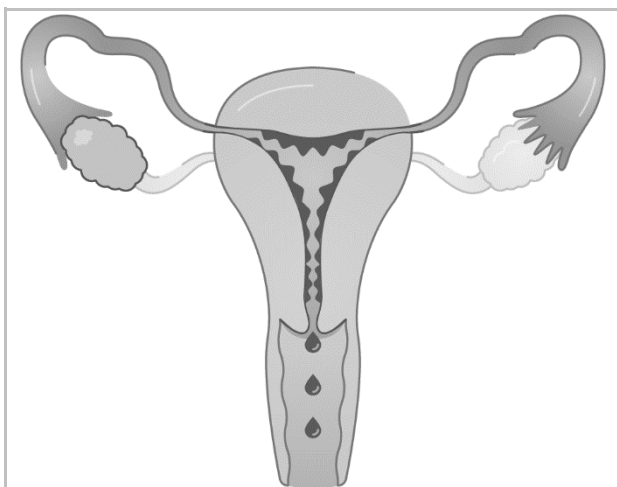
- A met letter X  
B met letter Y  
C met letter Z

### Bronvermelding

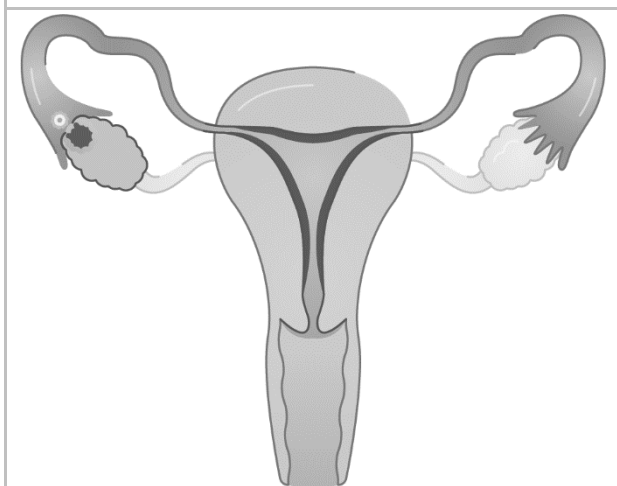
Een opsomming van de in dit examen gebruikte bronnen, zoals teksten en afbeeldingen, is te vinden in het bij dit examen behorende correctievoorschrift.

## uitwerkbijlage

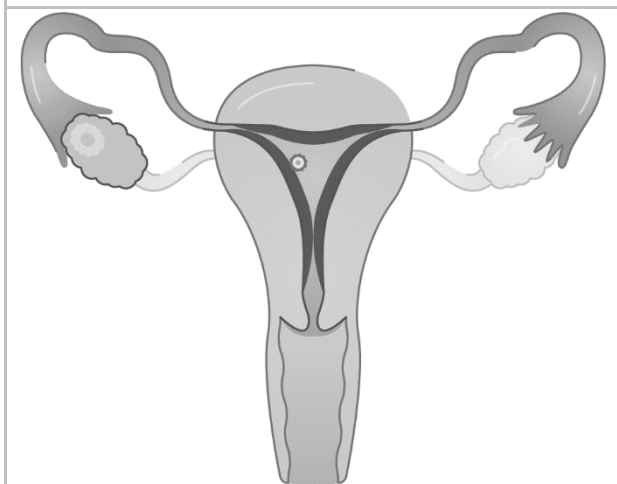
21 Omcirkel de juiste letter uit de informatie bij elke afbeelding.



P / Q / R / S



P / Q / R / S



P / Q / R / S